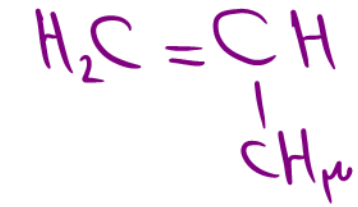



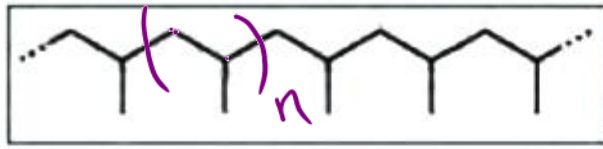
تمرینات دوره ای فصل ۱۳ شیمی یازدهم



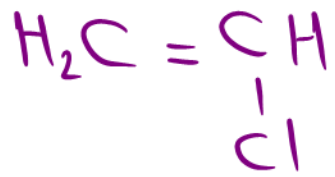
۱- در هر یک از موارد زیر ساختار پلیمر یا مونومر خواسته شده را مشخص کنید.



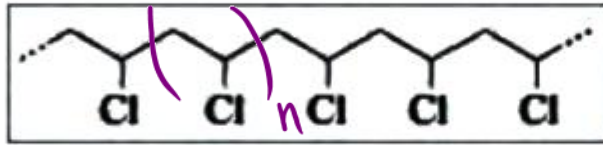
پروپین



(الف) پلی پروپین



کلروآلین



(ب) پلی وینیل کلرید

