







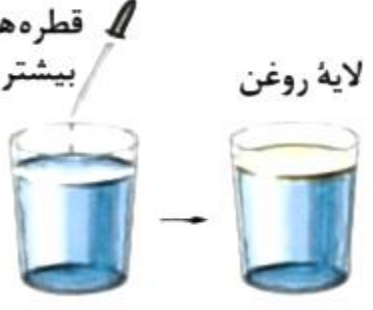

تمرینات دوره ای فصل ۳
شیمی دهم

۵- هر یک از شکل‌های زیر نمایی از آغاز و پایان آزمایشی برای درک مفهوم انحلال‌پذیری

سه ماده در آب و دمای 25°C است. نتیجه هر یک از این آزمایش‌ها را بنویسید.
 اتانول - هر نسبتی در آب حل می‌شود.
 روغن زردی - روغن آب را نمی‌برد.

تا ایجاد یک محلول سرد در آب حل می‌شود
 اما اضافی آن رسوب می‌کند

افزودن تدریجی حل‌شونده

 <p>۱ گرم شکر</p>	 <p>۱۰ قطره روغن لایه روغن</p>	 <p>۱۰ قطره اتانول</p>	<p>آغاز</p>
 <p>۳۰۰ گرم شکر ۹۵g حل‌نشده</p> <p>(ا)</p>	 <p>قطره‌های بیشتر روغن لایه روغن</p> <p>(ب)</p>	 <p>قطره‌های بیشتر اتانول</p> <p>(پ)</p>	<p>پایان</p>