



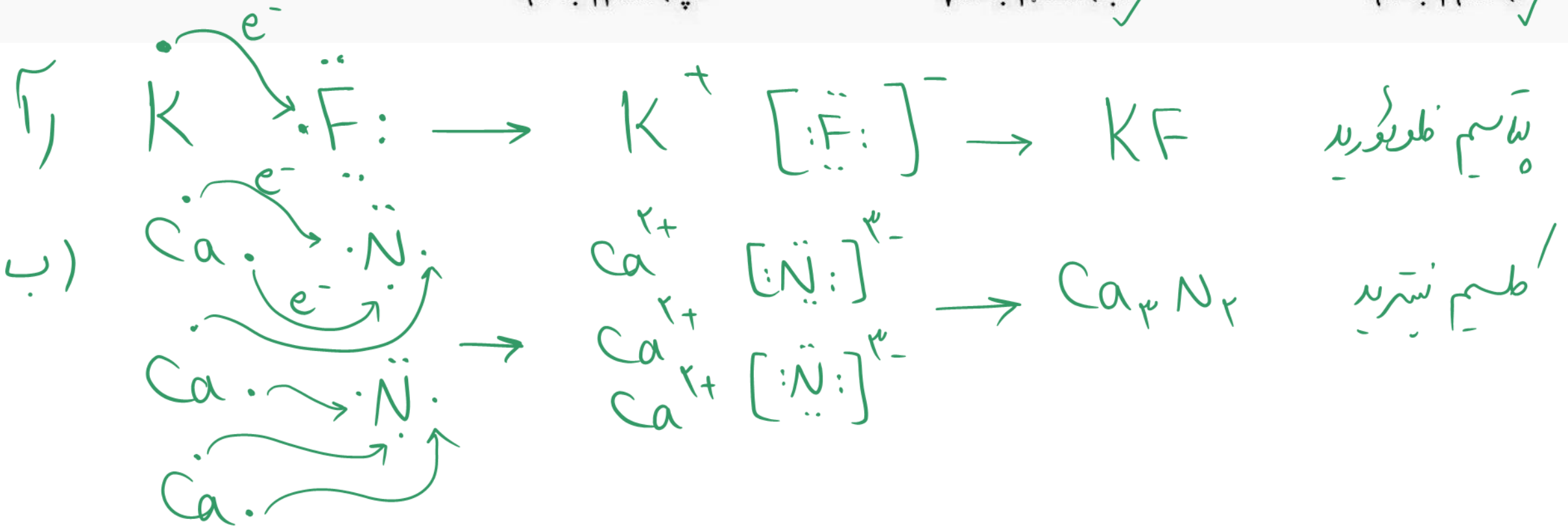
تمرینات دوره ای فصل اول شیمی دهم

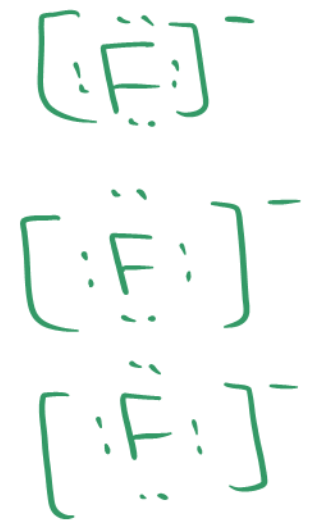
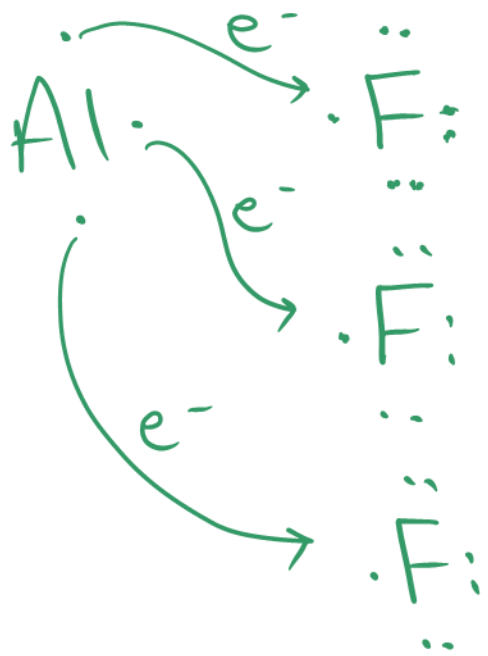
۲- با استفاده از آرایش الکترون - نقطه‌ای اتم‌ها در هر مورد، روند تشکیل، نام و فرمول شیمیایی ترکیب یونی حاصل از واکنش اتم‌های داده شده را مشخص کنید.

آ) ${}_{19}\text{K}$ با ${}_{9}\text{F}$ ✓

ب) ${}_{20}\text{Ca}$ با ${}_{7}\text{N}$ ✓

پ) ${}_{13}\text{Al}$ با ${}_{9}\text{F}$





AlF_3 فلوريد آلومنيوم