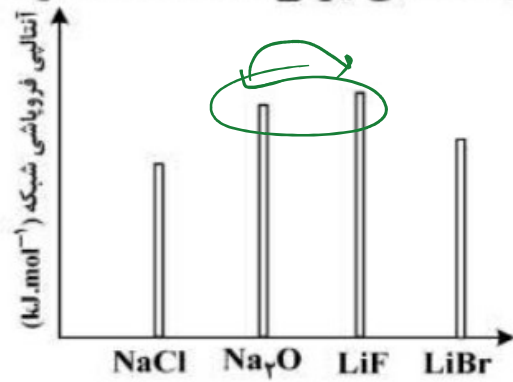


تجربی - سوال ۲۶۵

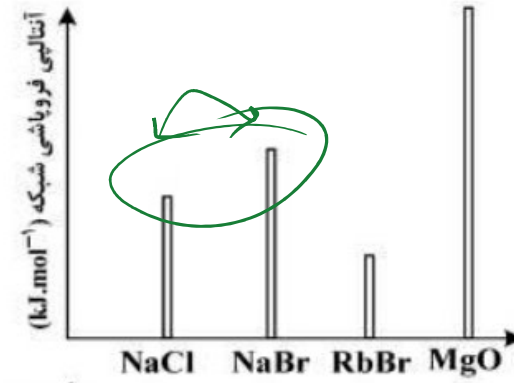
شیوا حریری

علی جبرا | سایت تخصصی آموزش

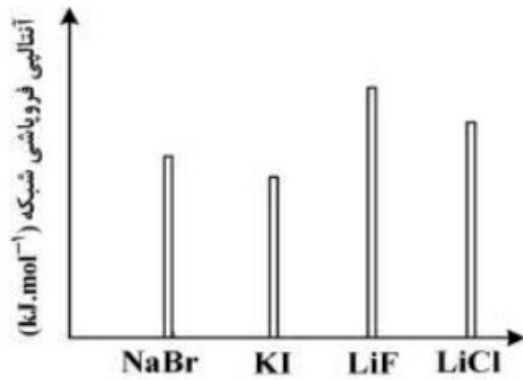
۲۶۵- کدام نمودار، درباره مقایسه نسبی آنتالپی فروپاشی شبکه بلور جامدهای یونی داده شده، درست است؟



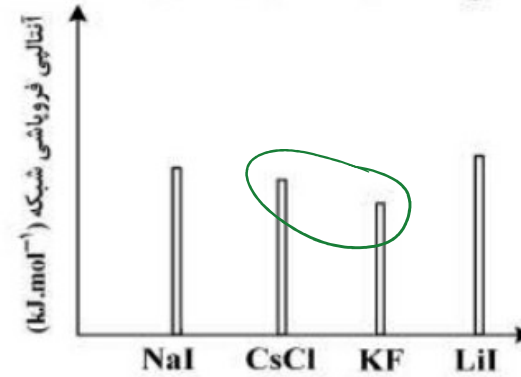
~~(۴)~~



~~(۴)~~



(۴) ✓



~~(۴)~~