

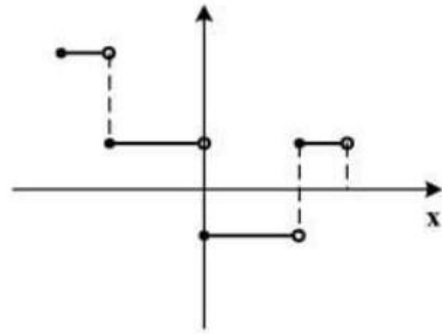
کنکور ۱۴۰۰ تجربی

تست شماره ۱۳۳

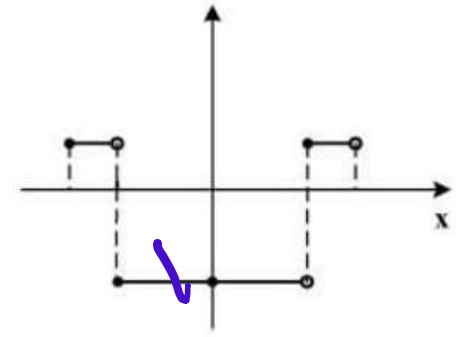
علی جبر | سایت تخصصی آموزش آنلاین

ALIGEBRA.COM

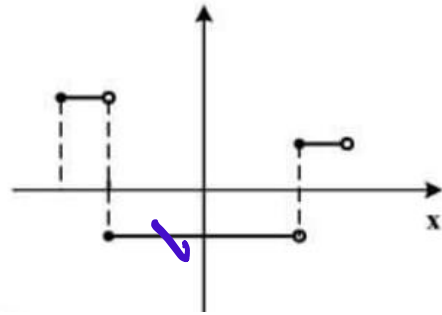
۱۳۳- نمودار تابع $y = 2||3x|| - 1$ به ازای $-\frac{1}{2} \leq x < \frac{1}{2}$ ، کدام است؟



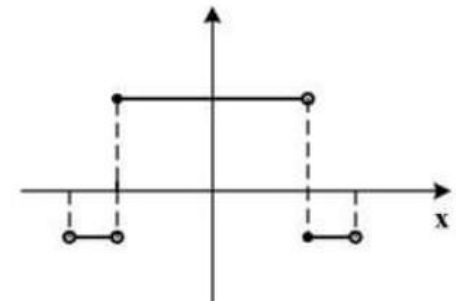
~~Incorrect~~



~~Incorrect~~



~~Incorrect~~



~~Incorrect~~

$$x=0 \rightarrow y=-1$$

$$x=\frac{-1}{100} \rightarrow y=1$$

سایت علی جبرا
Algebra.com

مشاوره پکیج ۰۹۱۲۷۷۴۴۳۸۹
کلاس خصوصی ۰۹۱۲۷۷۴۴۲۸۱