

ریاضی یازدهم تجربی

(تابع)

گام به گام فصل سوم

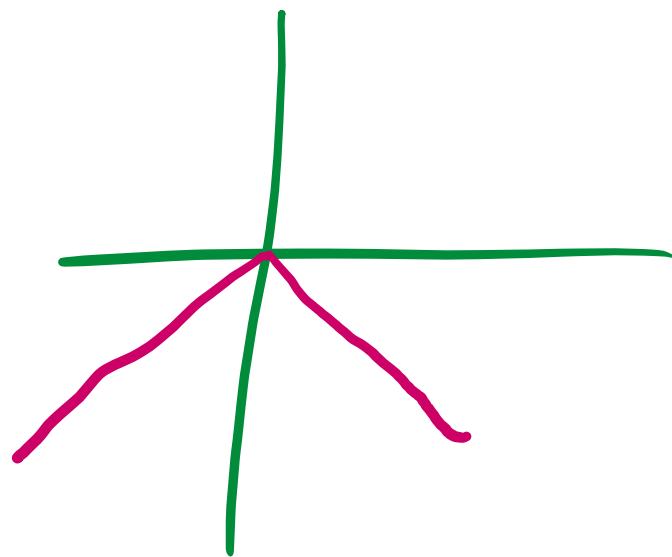
علی هاشمی

۱ با استفاده از نمودار تابع با ضابطه $f(x) = |x|$ ، نمودار هر یک از توابع با ضابطه‌های زیر را رسم کنید.

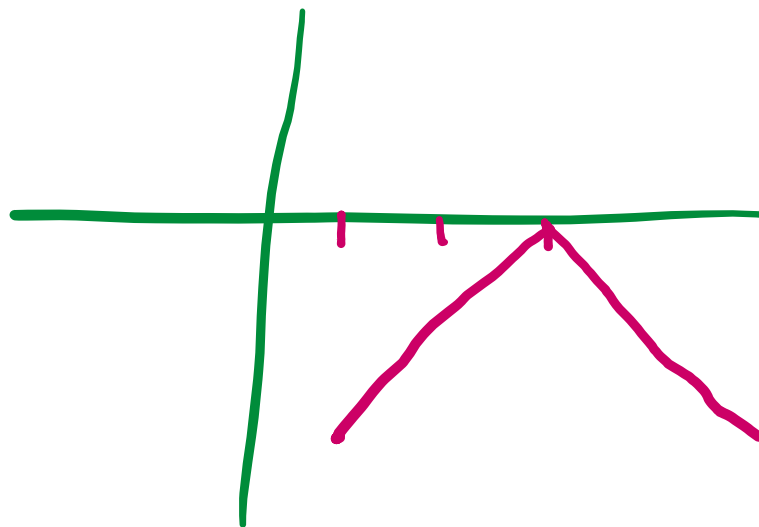
الف) $g(x) = -|x|$

ب) $h(x) = -|x-3|$

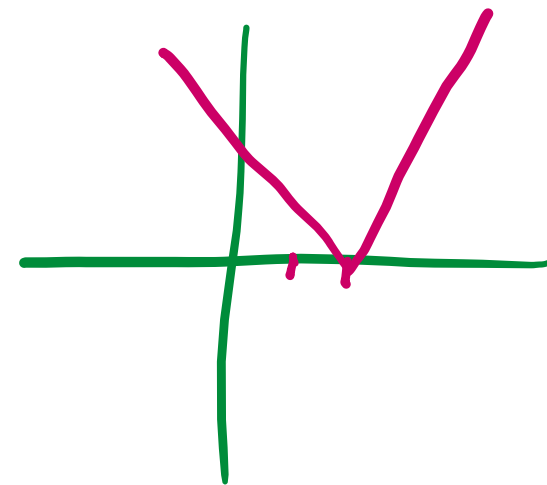
پ) $l(x) = 2|x-2|$



الف



ب



پ

ALIGEBRA.COM

۰۹۱۲۷۷۴۴۲۸۱-۰۹۱۲۷۷۴۴۳۸۹

علی جیبرا سائیت تخصصی ریاضی فیزیک

WWW.ALICEBRA.COM

AG

۰۹۱۲۷۷۴۴۲۸۱
۰۹۱۲۷۷۴۴۳۸۹

