

# ریاضی دہم تجربی

(آمار و احتمال)

## گام بہ گام فصل ہفتم

علی ہاشمی

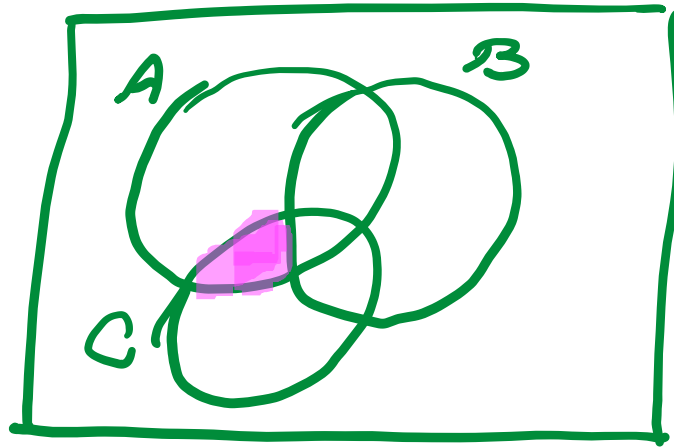
۲ فرض کنید  $A$  و  $B$  و  $C$  سه پیشامد از فضای نمونه‌ای  $S$  باشند. هر یک از عبارتهای توصیفی زیر را با نمودار ون نمایش دهید و هاشور بزنید.

الف) پیشامدهای  $A$  و  $C$  رخ بدهند؛ ولی  $B$  رخ ندهد.

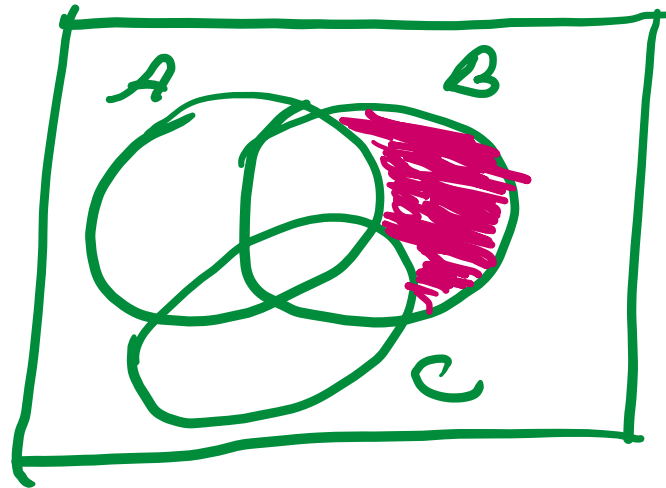
ب) فقط پیشامد  $B$  رخ بدهد.

پ) پیشامد  $B$  رخ بدهد و  $C$  رخ ندهد.

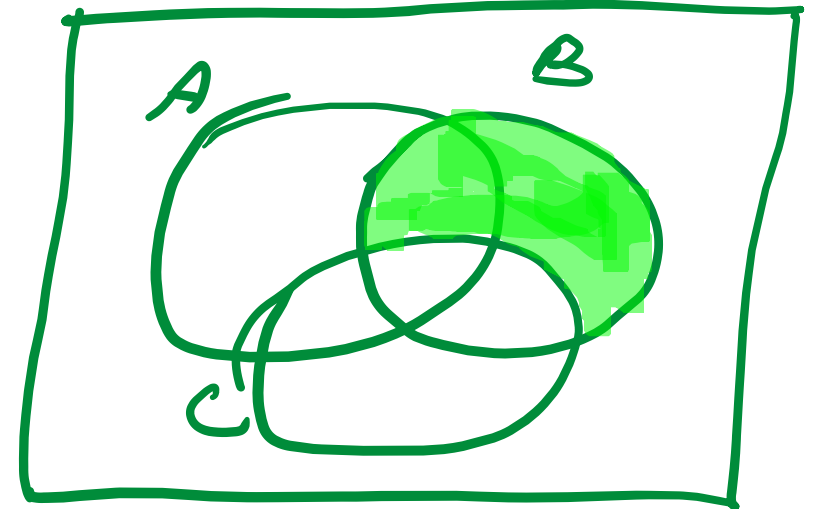
الف



ب



پ



**ALIGEBRA.COM**

۰۹۱۲۷۷۴۴۲۸۱-۰۹۱۲۷۷۴۴۳۸۹

علی جیبرا سایت تخصصی ریاضی فیزیک

[WWW.ALICEBRA.COM](http://WWW.ALICEBRA.COM)

AG

۰۹۱۲۷۷۴۴۲۸۱  
۰۹۱۲۷۷۴۴۳۸۹

