

# ریاضی دہم تجربی

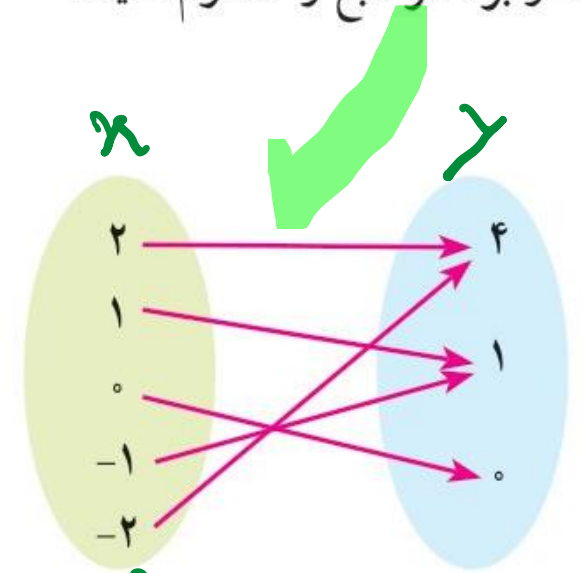
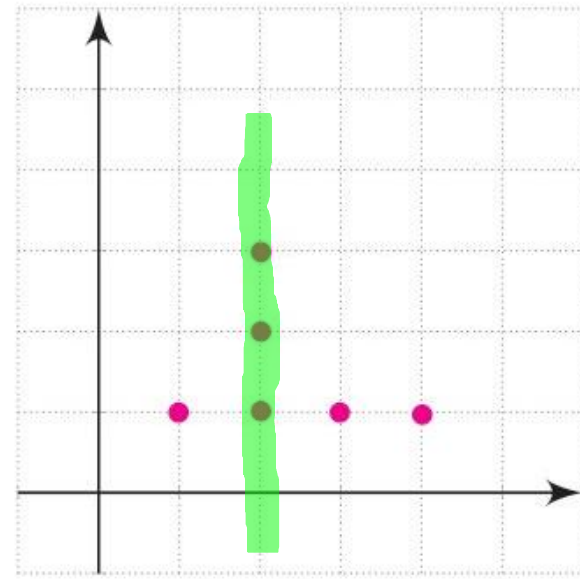
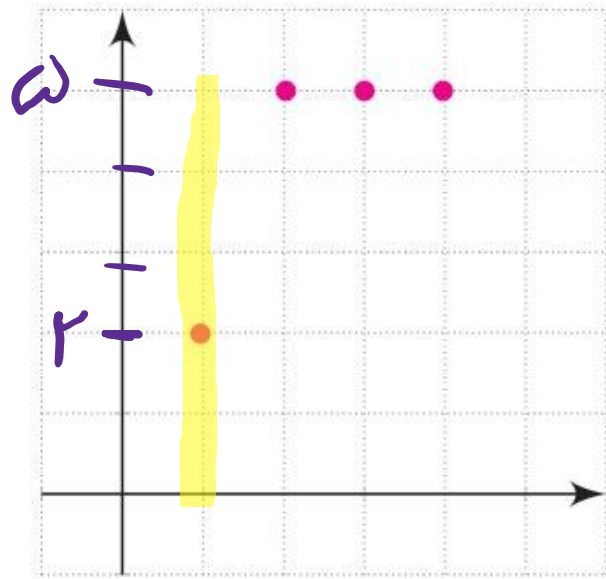
(تابع)

## گام بہ گام فصل پنجم

علی ہاشمی

۱ کدام یک تابع است؟

دامنه و برد هر تابع را معلوم کنید.



$$D_f = \{1, 1, 0, -1, -2\}$$

$$R_f = \{1, 0\}$$

$$D_f = \{1, 2, 3, 4\}$$

$$R_f = \{2, \omega\}$$



علی جیبرا سایت تخصصی ریاضی فیزیک

[WWW.ALICEBRA.COM](http://WWW.ALICEBRA.COM)

AG

۰۹۱۲۷۷۴۴۲۸۱  
۰۹۱۲۷۷۴۴۳۸۹

