

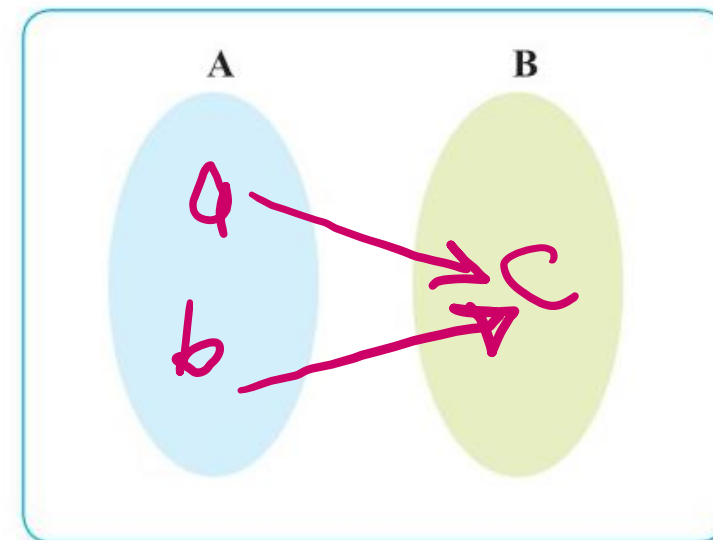
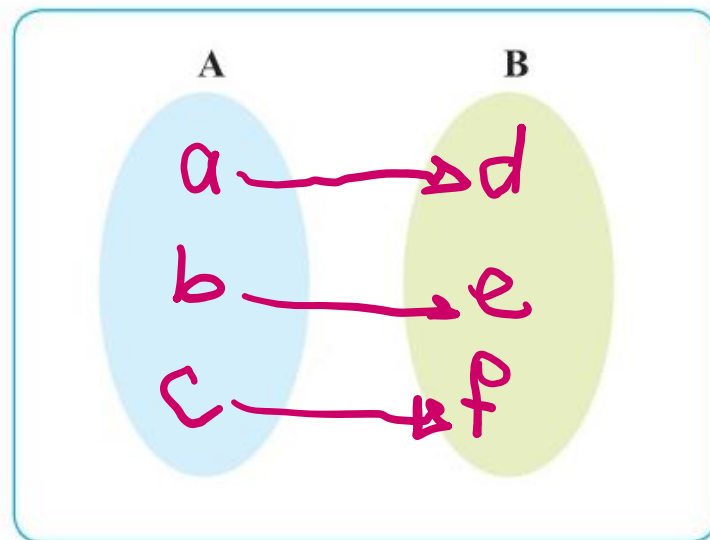
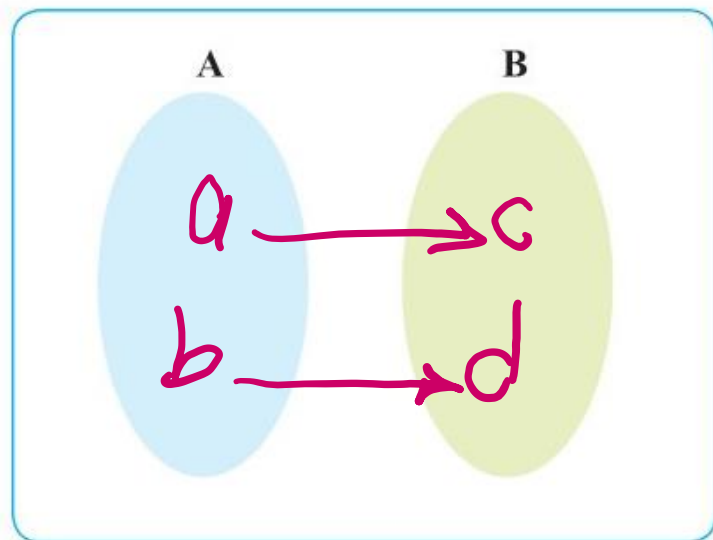
ریاضی دہم تجربی

(تابع)

گام بہ گام فصل پنجم

علی ہاشمی

۴ A و B مجموعه‌هایی غیر عددی‌اند، در شکل زیر در A و B اعضای دلخواه بگذارید و یک تابع از A به B به کمک نمودار پیکانی ارائه کنید. سعی کنید لا اقل سه تابع مختلف بنویسید. پاسخ خود را با پاسخ دوستانتان مقایسه کنید.



علی جیبرا سائیت تخصصی ریاضی فیزیک

WWW.ALICEBRA.COM

AG

۰۹۱۲۷۷۴۴۲۸۱
۰۹۱۲۷۷۴۴۳۸۹

