

# ریاضی دہم تجربی

(مثلثات)

## گام بہ گام فصل دوم

علی ہاشمی

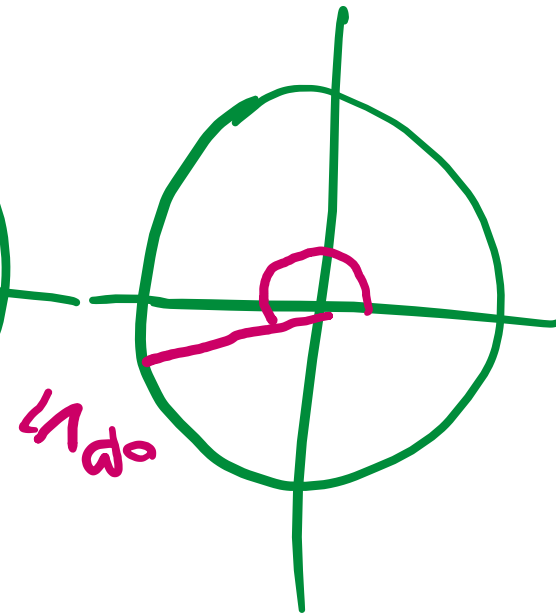
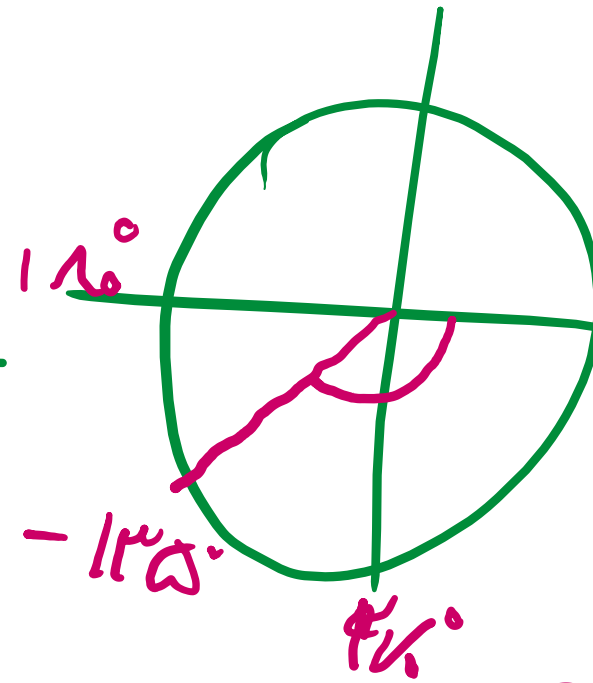
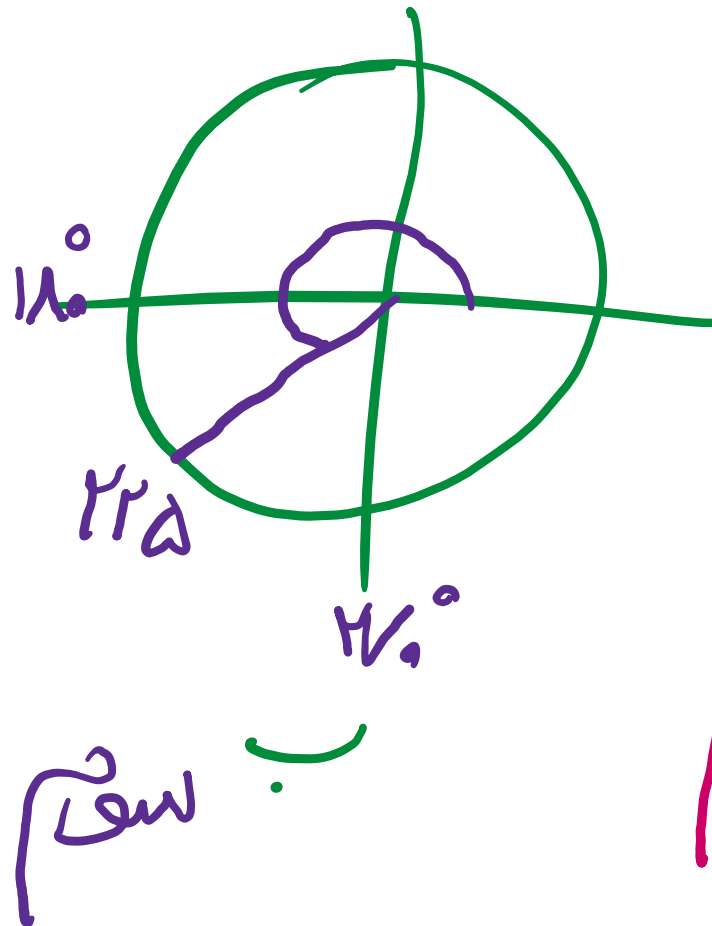
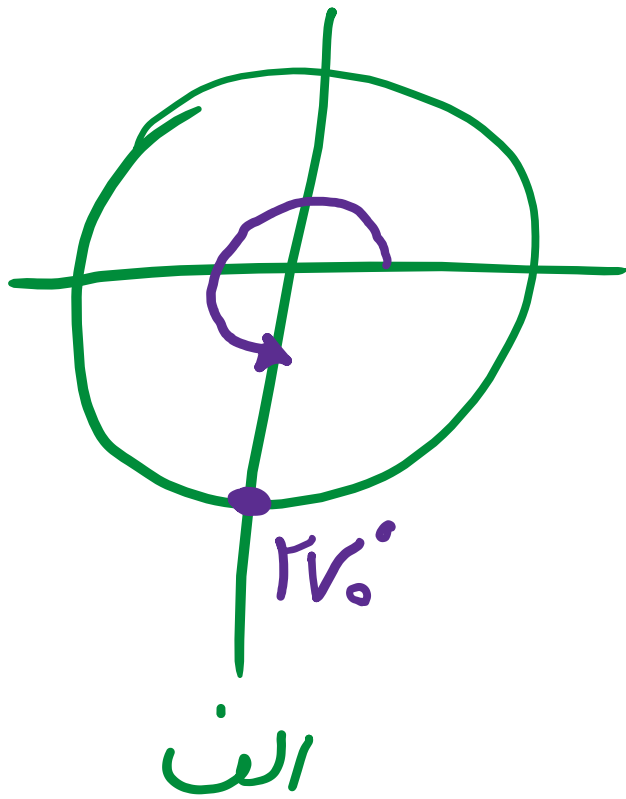
۱ هر یک از زاویه‌های زیر را روی دایره مثلثاتی رسم کنید، سپس مشخص کنید در کدام یک از نواحی چهارگانه قرار می‌گیرد.

ت)  $185^\circ$

پ)  $-135^\circ$

ب)  $225^\circ$

الف)  $+27^\circ$



علی جیبرا سائیت تخصصی ریاضی فیزیک

[WWW.ALICEBRA.COM](http://WWW.ALICEBRA.COM)

AG

۰۹۱۲۷۷۴۴۲۸۱  
۰۹۱۲۷۷۴۴۳۸۹

