

# ریاضی دہم تجربی



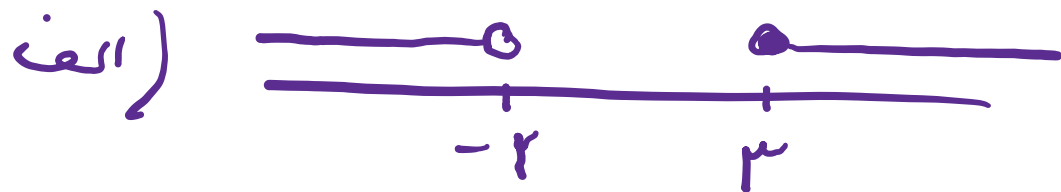
(مجموعہ، الگو و دنبالہ)

## گام بہ گام فصل اول

علی ہاشمی

۱  $\mathbb{R}$  را به عنوان مجموعه مرجع در نظر بگیرید و سپس متمم هر یک از مجموعه‌های زیر را روی محور نشان دهید.

(الف)  $A = [-2, 3)$  (ب)  $B = \{0, 1, 2, 3, 4, \dots\}$  (پ)  $C = (0, +\infty)$  (ت)  $D = (-\infty, 1]$



علی جیبرا سائیت تخصصی ریاضی فیزیک

[WWW.ALICEBRA.COM](http://WWW.ALICEBRA.COM)

AG

۰۹۱۲۷۷۴۴۲۸۱  
۰۹۱۲۷۷۴۴۳۸۹

