

ریاضی دہم تجربی

(مجموعہ، الگو و دنبالہ)

گام بہ گام فصل اول


علی ہاشمی

حاصل هر یک از مجموعه‌های زیر را با رسم بازه‌های آنها روی یک محور به دست

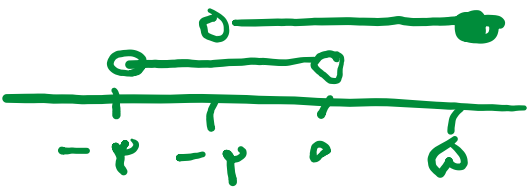
آورید:

(ب) $(-\infty, 6] \cap (2, 9)$

(الف) $(-3, 0) \cup (-2, 5]$




$(2, 6]$



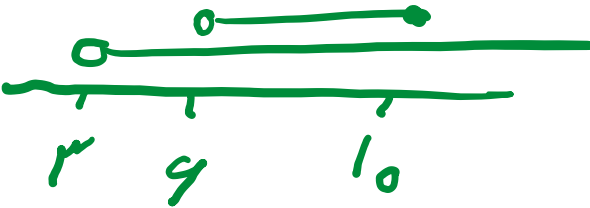
$(-2, 5]$

(ت) $(-\infty, 1) \cup [1, +\infty)$

(پ) $(3, +\infty) \cap (6, 10]$



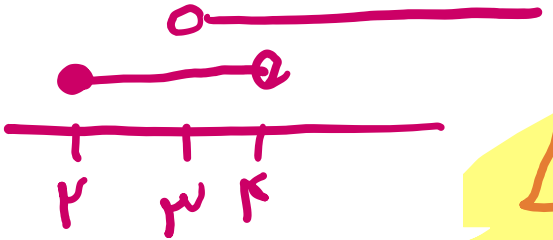
\mathbb{R}




$(6, 10]$

(ج) $[2, 4) - (3, +\infty)$

(ث) $(3, +\infty) - [2, 4)$



$[2, 3]$



$[3, +\infty)$

علی جیبرا سائیت تخصصی ریاضی فیزیک

WWW.ALICEBRA.COM

AG

۰۹۱۲۷۷۴۴۲۸۱
۰۹۱۲۷۷۴۴۳۸۹

