

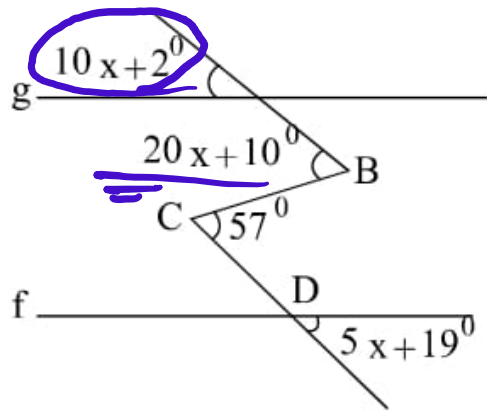
درس و تست ریاضی

چند ضلعی ها

علی هاشمی

۰۹۱۲۷۷۴۴۲۸۱ - ۰۹۱۲۷۷۴۴۳۸۹

۷- در شکل مقابل اگر $g \parallel f$ ، اندازه‌ی زاویه‌ی B چند درجه است؟

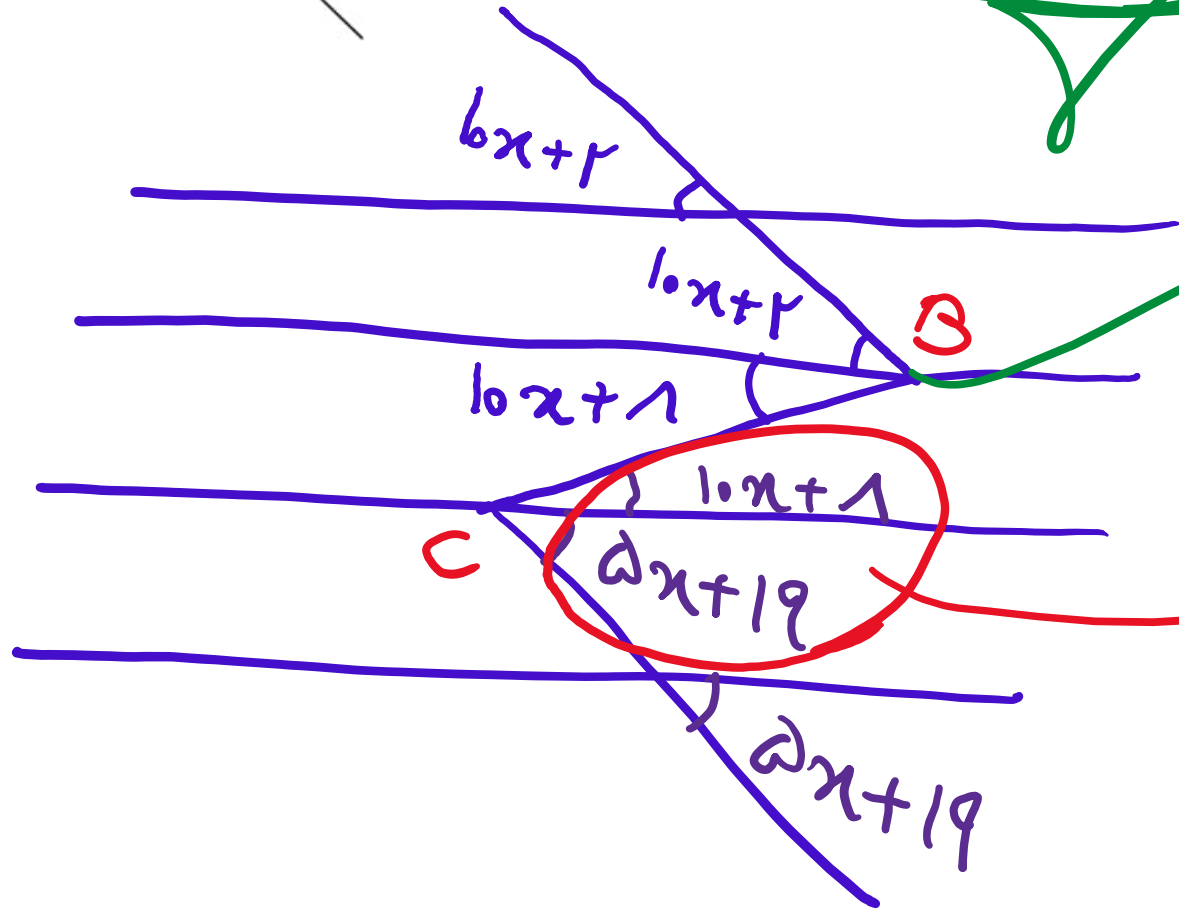
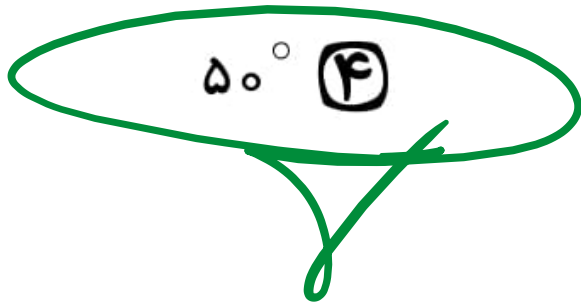


58° (۲)

57° (۱)

50° (۴)

59° (۳)



$B = 20x + 10 = 50$

$10x + 19 = 57$
 $10x = 38$

$x = 3.8$

