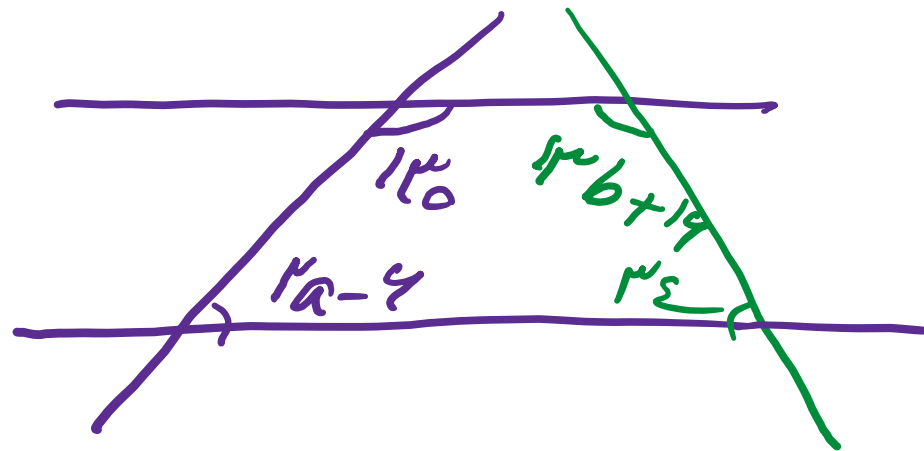
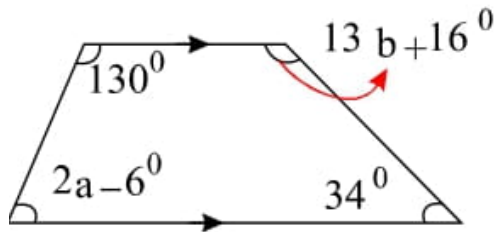


درس و تست ریاضی

چند ضلعی ها

علی هاشمی

۰۹۱۲۷۷۴۴۲۸۱ - ۰۹۱۲۷۷۴۴۳۸۹

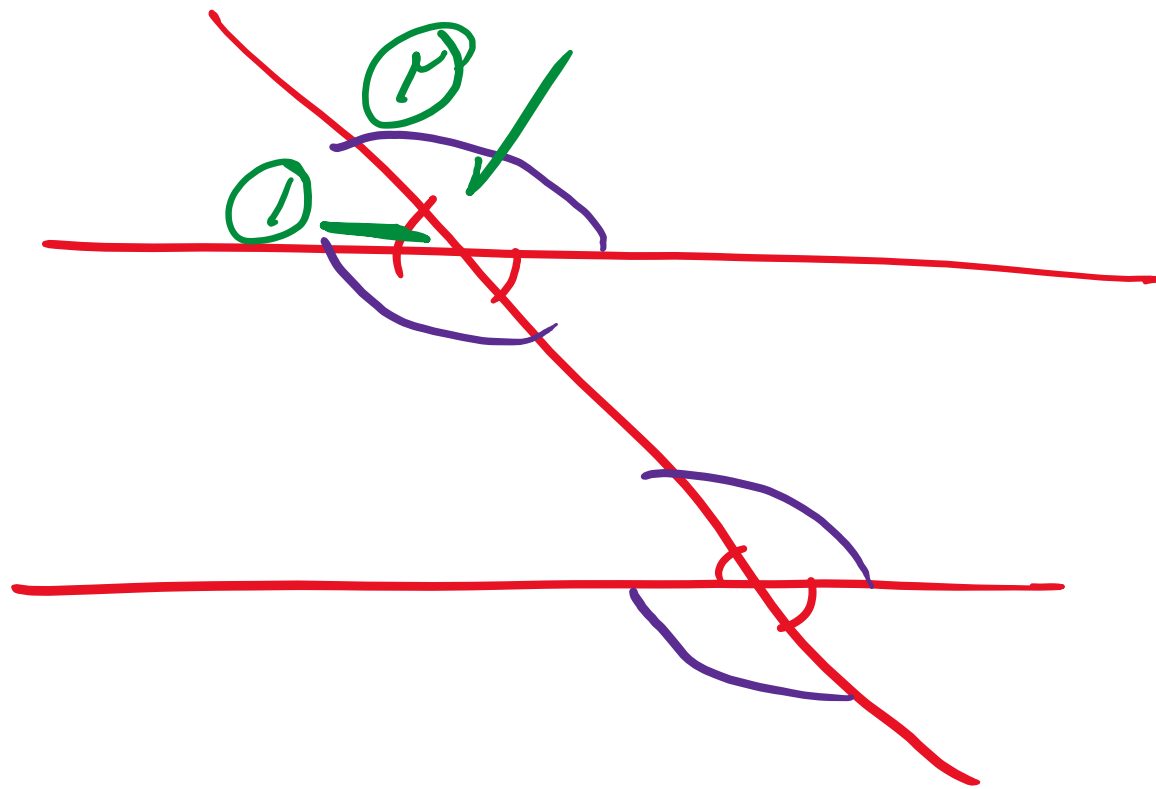


۱۴- مقدار $b + a$ را بیابید.

$$130 + 2a - 6 = 180 \Rightarrow 2a - 6 = 50 \Rightarrow 2a = 56 \Rightarrow a = 28$$

$$13b + 16 + 34 = 180 \Rightarrow 13b = 130 \Rightarrow b = 10$$

$$a + b = 28 + 10 = 38$$



$$\uparrow + \uparrow = 1 \text{ No.}$$