

درس و تست ریاضی

عددهای صحیح و گویا

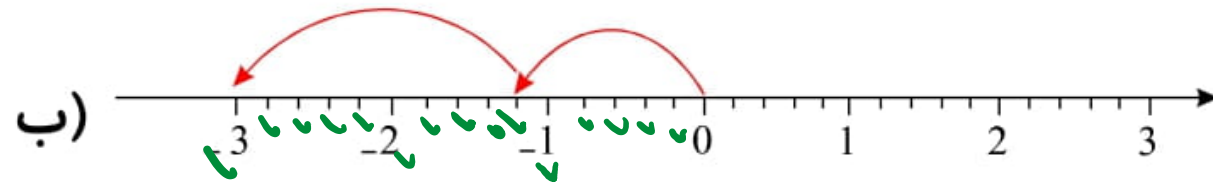
علی هاشمی

۰۹۱۲۷۷۴۴۲۸۱ - ۰۹۱۲۷۷۴۴۳۸۹

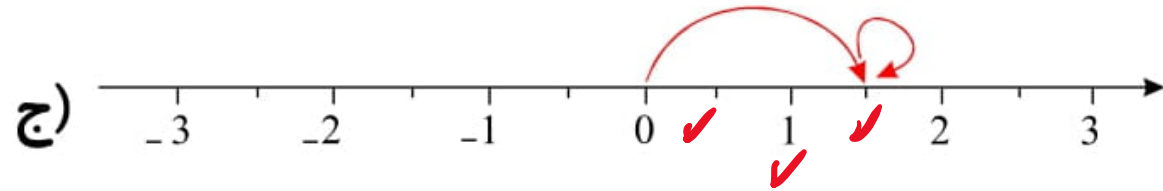
۲۵- برای هر یک از محورهای زیر یک جمع متناظر بنویسید.



$$\frac{4}{3} + \frac{2}{3} - \frac{6}{3} = \frac{2}{3}$$

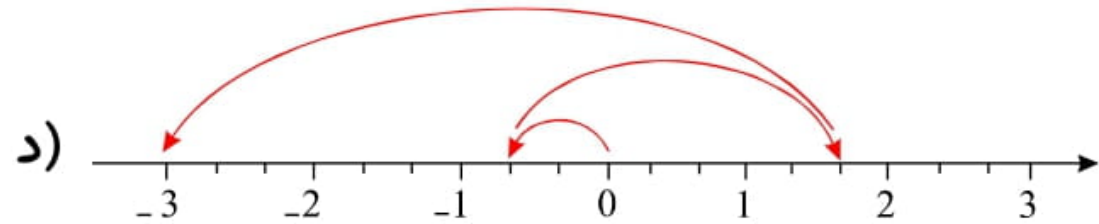


$$-\frac{4}{5} - \frac{9}{5} = -\frac{13}{5}$$



$$\frac{3}{2} + 0 = \frac{1}{2}$$

$$\frac{1}{2}$$



توجه!

$$-\frac{4}{3} + \frac{1}{3} - \frac{2}{3} = -\frac{5}{3}$$

