

درس و تست ریاضی

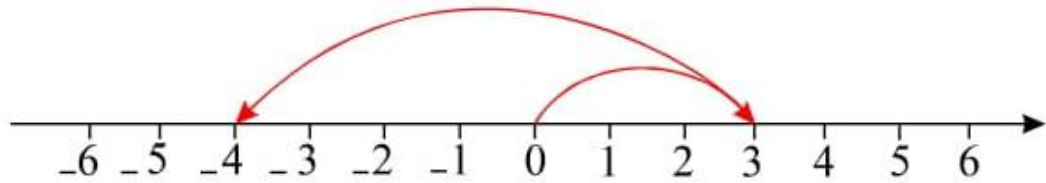
عددهای صحیح و گویا

علی هاشمی

۰۹۱۲۷۷۴۴۲۸۱ - ۰۹۱۲۷۷۴۴۳۸۹

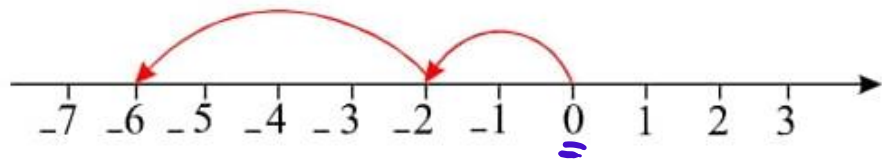
۲۴- برای هر محور یک جمع بنویسید.

الف)



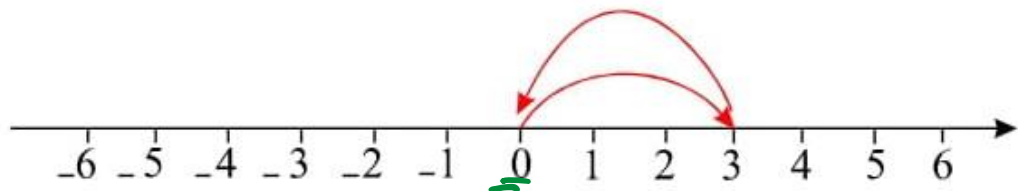
$$+3 - 4 = -1$$

ب)



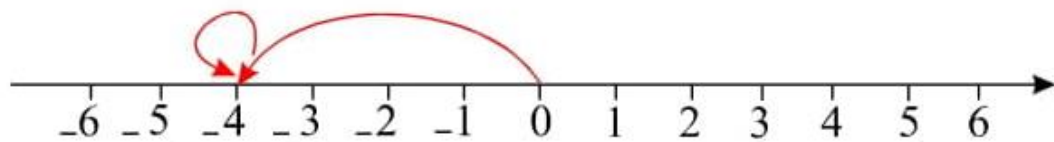
$$-2 + 1 - 4 = -5$$

پ)



$$3 - 4 + 1 = 0$$

ت)



$$-4 + 1 + 3 = 0$$

