

تست فیزیک کنکور

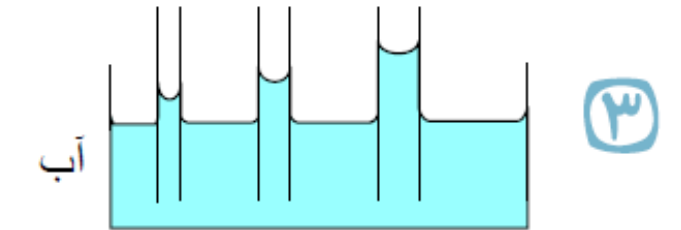
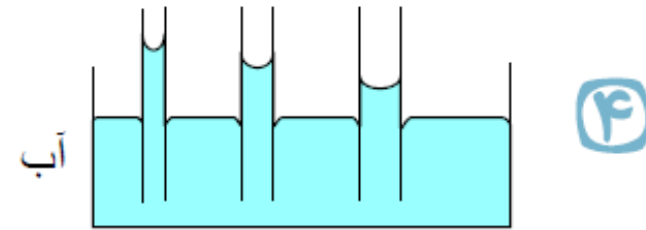
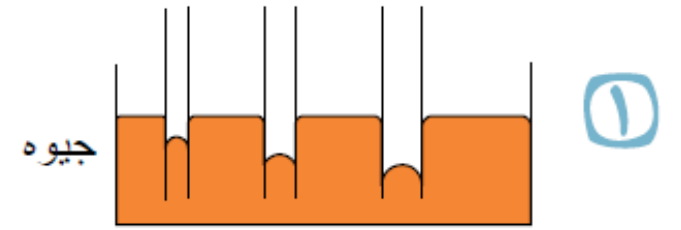
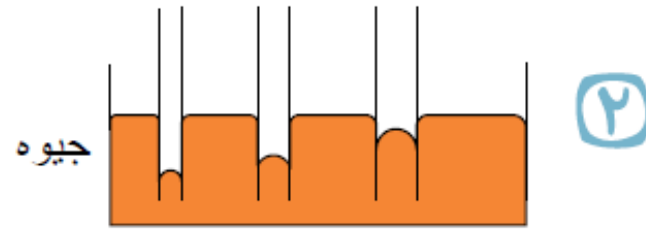
ویژگی های فیزیکی مواد

حسین هاشمی

۴

کدامیک از شکل‌های زیر، خاصیت موینگی در لوله‌های شیشه‌ای را درست نشان داده

است؟



پاسخ: ۱ ۲ ۳ ۴ به محل تماس لوله‌ها و سطح مایع درون ظرف هم توجه داشته باشیم!

۹۹ تجربی

علی جبرا وب سایت تخصصی آموزش

ALIGEBRA.COM



•۹۱۲-۷۷۴۴-۲۸۱

ALIGEBRA.COM