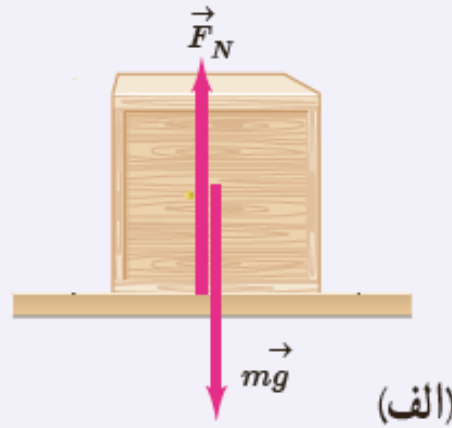
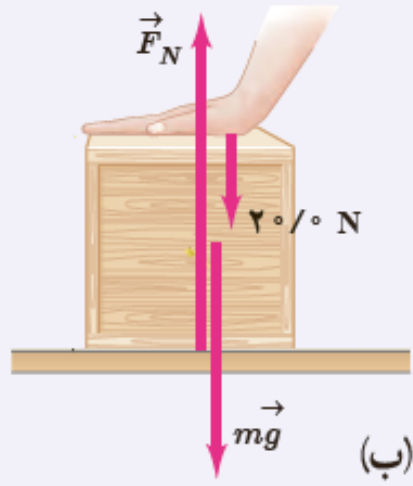
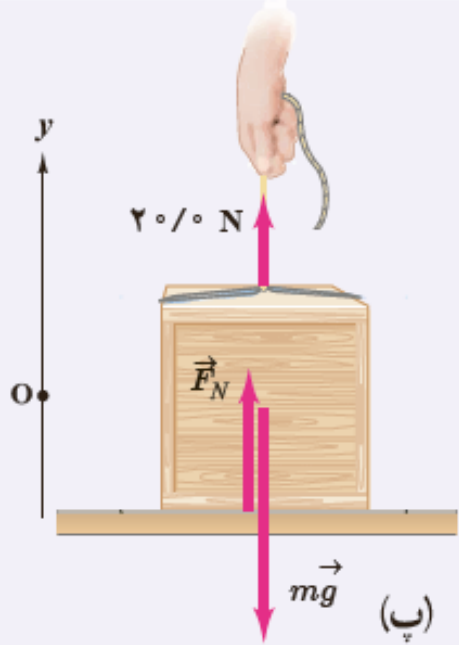


آموزش فیزیک

دینامیک و حرکت دایره ای

حسین هاشمی

همانند شکل، جعبه‌ای به جرم 40 kg روی میزی افقی قرار دارد. نیروی عمودی سطح را در حالت‌های نشان داده شده به دست آورید.



$$F + 20 = mg \rightarrow F = mg - 20 \quad (\text{ب})$$

$$F = 20 \text{ N}$$

$$F = mg + 20 \quad (\text{ب})$$

$$F = 40 \text{ N}$$

$$F = mg \quad (\text{الف})$$

$$F = 40 \text{ N}$$

علی جبرا وب سایت تخصصی آموزش

ALIGEBRA.COM



۰۹۱۲-۷۷۴۴-۲۸۱

ALIGEBRA.COM